

---

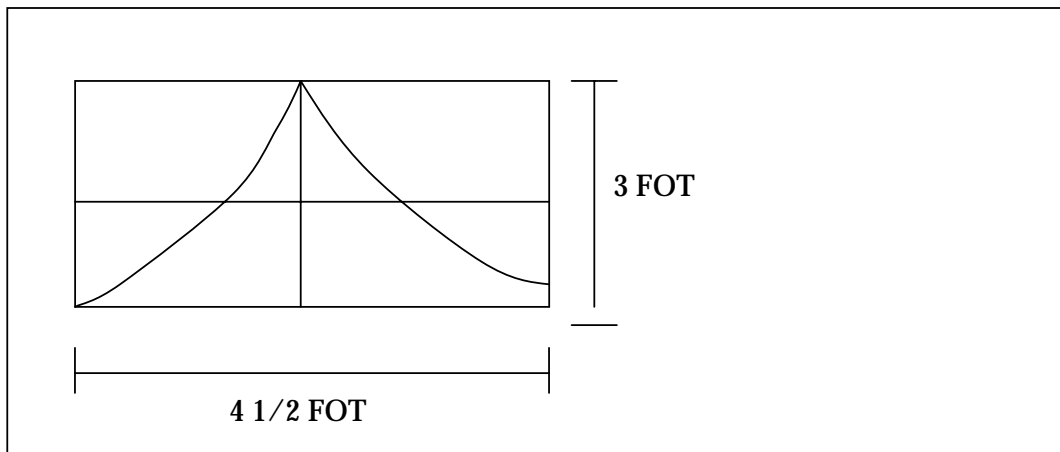
Sist oppdatert: 11. november 2003

---

**OPPGAVER FOR:** \_\_\_\_\_

BRUK HYSSINGEN TIL Å MÅLE I FAVN, ALEN, FOT OG TOMME. HUSK ALLTID Å SKRIVE HVILKET MÅL DU HAR BRUKT. SE PÅ EKSEMPELET OG SKRIV SOM PÅ DET.

VINDUET MITT:




1. TEGN PULTEN DIN HER. SKRIV MÅLENE PÅ TEGNINGEN.



---


2. TEGN MATTEBOKEN DIN HER. MÅL DEN. SKRIV MÅLENE PÅ TEGNINGEN.



3. TEGN BLYANTEN DIN HER. MÅL DEN. SKRIV MÅLENE PÅ TEGNINGEN.




4. TEGN DØREN TIL KLASSEROMMET HER. MÅL DEN. SKRIV MÅLENE PÅ TEGNINGEN.



---

5. TEGN VENNEN DIN HER. MÅL HVOR HØY HAN/HUN ER. SKRIV MÅLENE PÅ TEGNINGEN.



6. MÅL HVOR LANG NESEN TIL VENNEN DIN ER. HVOR LANG ER NESEN?

SVAR: \_\_\_\_\_